



**EVALUAREA COMPETENȚELOR FUNDAMENTALE
LA FINALUL CLASEI a II-a
2023**

Test 1

MATEMATICĂ

Județul / sectorul.....

Localitatea.....

Școala.....

Numele și prenumele elevei / elevului.....

.....

Clasa a II-a.....

Băiat ☐


Fată ☐

У СВЕТУ ЖИВОТИЊА

Како би удовољила жељи својих ђака, да сазнају више о животињама, учитељица је препоручила да читају књигу „Енциклопедија животиња”.

Андеј, Корина, Разван и Јоана одлучили су да сваки чита о омиљеној животињи.

Број прочитаних страница забележен је у доњој табели.



Андреј	Корина	Разван	Јоана
125 страница	160 страница	38 страница	75 страница

1. Андреј је упоредио број страница које је он прочитао са бројем страница које је прочитала Корина.

Упореди их и ти! Напиши, у празном квадратићу, један од знакова $<$, $>$, $=$ како би релација била тачна.

125 160

Nu se completează de către elev
COD

1.

2. Јоана је израчунала разлику између највећег и најмањег броја страница које је прочитао сваки од ова четири детета.

Израчунај и ти!


Напиши, на датом простору, решење задатка.

[illegible]

Nu se completează de către elev
COD

2.

Пронађи резултат поновљеним сабирањем једнаких сабирака.
Напиши, на датом простору, решење задатка.

[illegible]

3.

11

Заокружи слово које показује тачан одговор.

- 4.

11

5. Корина је спремила, за своје другаре, 24 слика са срнама и 4 пута мање слика са жирафама. Колико слика са жирафама је спремила Корина?

Пронађи резултат поновљеним одузимањем.

Напиши, на датом простору, решење задатка.

[illegible]

Nu se completează de către elev
COD

5.

11

6. Андреј је представио својим другovima неколико информација о слону.

На коју геометријску фигуру личи рам доњег плаката којег је представио Андреј?

Заокружи слово које показује тачан одговор.



Слон је највећа и најтежа животиња на свету.

Он поједе 250 kg хране и попије око 190 l воде сваког дана.

Слон има 2 кљове од слоноваче, од којих се прави лепа бижутерија.

Он има веома добро памћење.

- а) круг
б) правоугаоник
в) квадрат
г) троугао

Nu se completează de către elev
COD

6.

11

7. Како би се играла, Корина је поређала слике омиљених животиња као по доњем примеру. Које слике следе у низу?

Заокружи слово које показује тачан одговор.



а)



б)



в)



г)



Nu se completează de către elev
COD

7.

8. Разван је изабрао 12 слика са омиљеним животињама и дао је по 3 слике сваком пријатељу. Колико деце је добило слике?

Заокружи слово које показује тачан одговор.

а) 3 детета

б) 4 детета

в) 9 детета

г) 15 детета

Nu se completează de către elev
COD

8.

9. Јоана је показала својим колегама следећу фотографију, на којој се налази мајмун, њена омиљена животиња. На којој страни слике се налази мајмун?
Заокружи слово које показује тачан одговор.

- а) доле десно
- б) горе десно
- в) доле лево
- г) горе лево





Nu se completează de către elev
COD

9.

10. Свако дете је залепило по једну сличицу са омиљеном животињом на картончићима различитог облика.

Напиши, на датом простору, назив геометријске фигуре на којој је залепљена слика са лисицом.



Картончић на којем је залепљена слика са лисицом има облик _____ .

Nu se completează de către elev
COD

10.

11. Јоана је читала из једне књиге, у току једног дана, од 8:00 до 10:00 сати. Колико сати је читала тог дана?

Заокружи слово које показује тачан одговор.

- а) 2 сата
б) 3 сата
в) 10 сати
г) 18 сати

Nu se completează de către elev
COD

11.

12. У доњој табели, деца су забележила количину воде коју попију у току једног дана следеће животиње:

Жирафа	Зебра	Камила	Слон
40 литара	14 литара	100 литара	190 литара

Они сматрају, да се сваког дана, у Зоолошком врту, укупно користи 350 литара воде за 1 жирафу, 2 зебре, 1 камилу и 1 слона. Да ли су у праву?

Објасни, на датом простору, твој одговор.

Да, зато што _____

Не, зато што _____

[illegible]

Nu se completează de către elev
COD

ЧЕСТИТАМ, СТИГАО СИ НА КРАЈУ ТЕСТА!

ХВАЛА НА УЧЕШЋУ!

12.