

Examenul național de bacalaureat 2023

Proba E. d)

Geografie

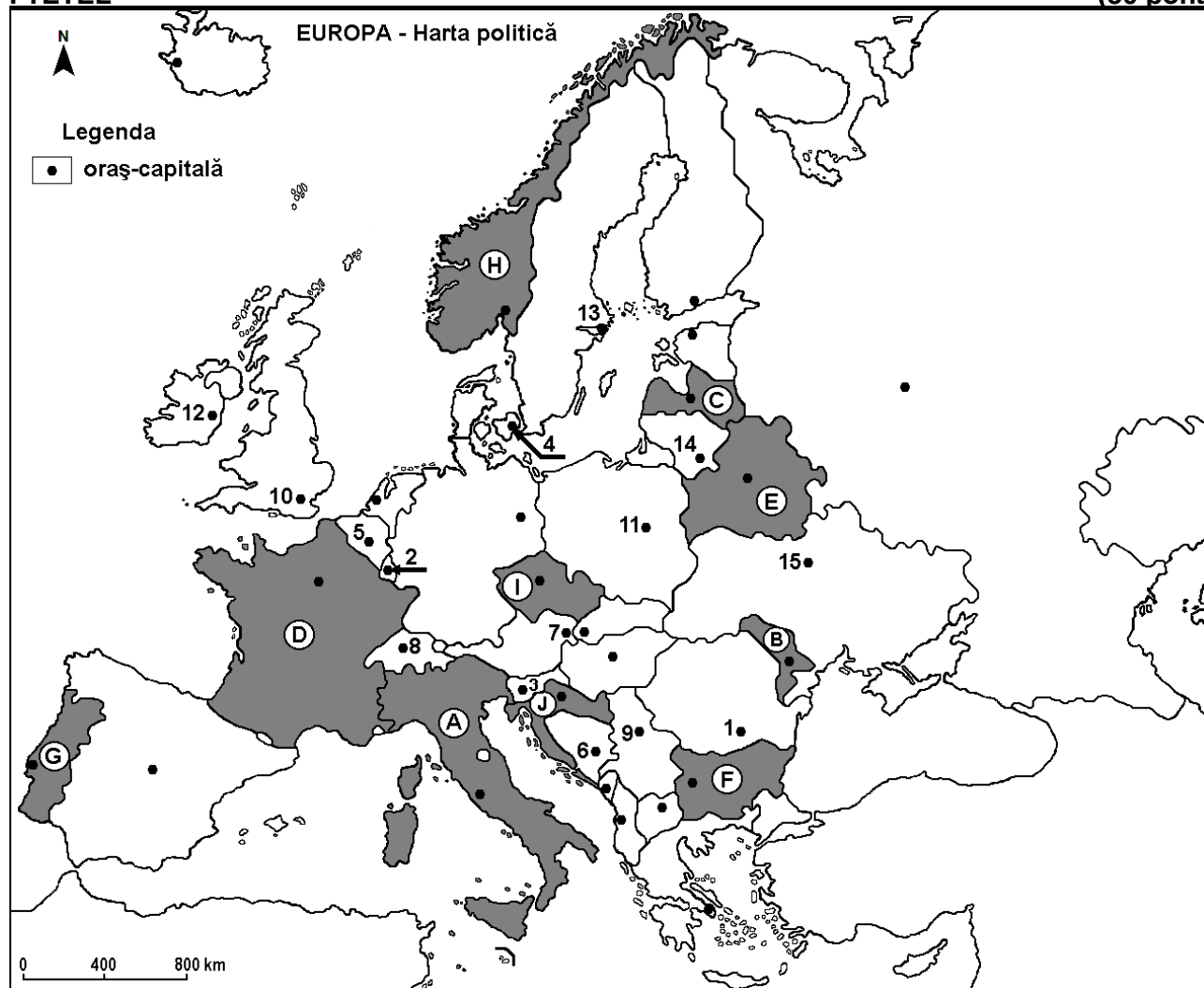
Varianta 6

Profilul umanist din filiera teoretică, profilul servicii din filiera tehnologică și toate profilurile și specializările din filiera vocațională, cu excepția profilului militar

- **Minden tétel kötelező. Hivatalból tíz pont jár.**
- **A munkaidő 3 óra.**

I TÉTEL

(30 pont)



A fenti térkép az I. tétel A - E pontjaira vonatkozik. A térképen az országokat betűk, a fővárosokat számok jelölik.

A. Nevezétek meg:

1. a térképen **B** betűvel jelölt országot;
2. a térképen **10**-es számmal jelölt fővárost.

4 pont

B. Írjátok a vizsgalapra az alábbi mondatokat kiegészítő helyes válaszokat:

1. A térképen **9**-es számmal jelölt főváros neve...
2. Annak az országnak a neve, melynek fővárosát a térképen **7**-es szám jelöli ...
3. A térképen **I** betűvel jelölt ország neve...

6 pont

C. Írjátok a vizsgalapra a következő kijelentésekre adott helyes válaszok betűjelét:

1. A térképen **3**-as számmal jelölt főváros:

a. Ljubljana

b. Podgorica

c. Szarajevó

d. Tirana

2 pont

2. Az Észak-európai-alföld abban az országban található, melynek a fővárosát a térképen a következő szám jelöli:

- a. 1 b. 6 c. 9 d. 11 2 pont

3. A térképen E betűvel jelölt ország fővárosának a neve:

- a. Kisinyov b. Kijev c. Minszk d. Vilniusz 2 pont

4. A térképen C betűvel jelölt ország neve:

- a. Észtország b. Finnország c. Lettország d. Litvánia 2 pont

5. Porto és Lisszabon abban az országban található városok, melyet a térképen a következő betű jelöl:

- a. A b. G c. H d. J 2 pont

D. Írjatok három különbséget a térképen A és H betűkkel jelölt országok **éghajlata** között.

1. **Megjegyzés:** A különbségek a következő **éghajlati** elemek bármelyikére vonatkozhatnak: éghajlati tényezők, éghajlati típusok, évi/nyári/téli középhőmérséklet, hőmérsékleti amplitudó, évi/nyári/téli átlagos csapadékmennyiség, gyakori szelek, egyéb éghajlati sajátosságok.

2. **Megjegyzés:** A teljes pontszám csak abban az esetben adható meg, ha a különbségeket összehasonlítóként és nem külön-külön írjátok le.

3. **Megjegyzés:** **Nem** szükséges az országok megnevezése, a feladat megoldásában hivatkozhattok az országok jelölő betűre. **6 pont**

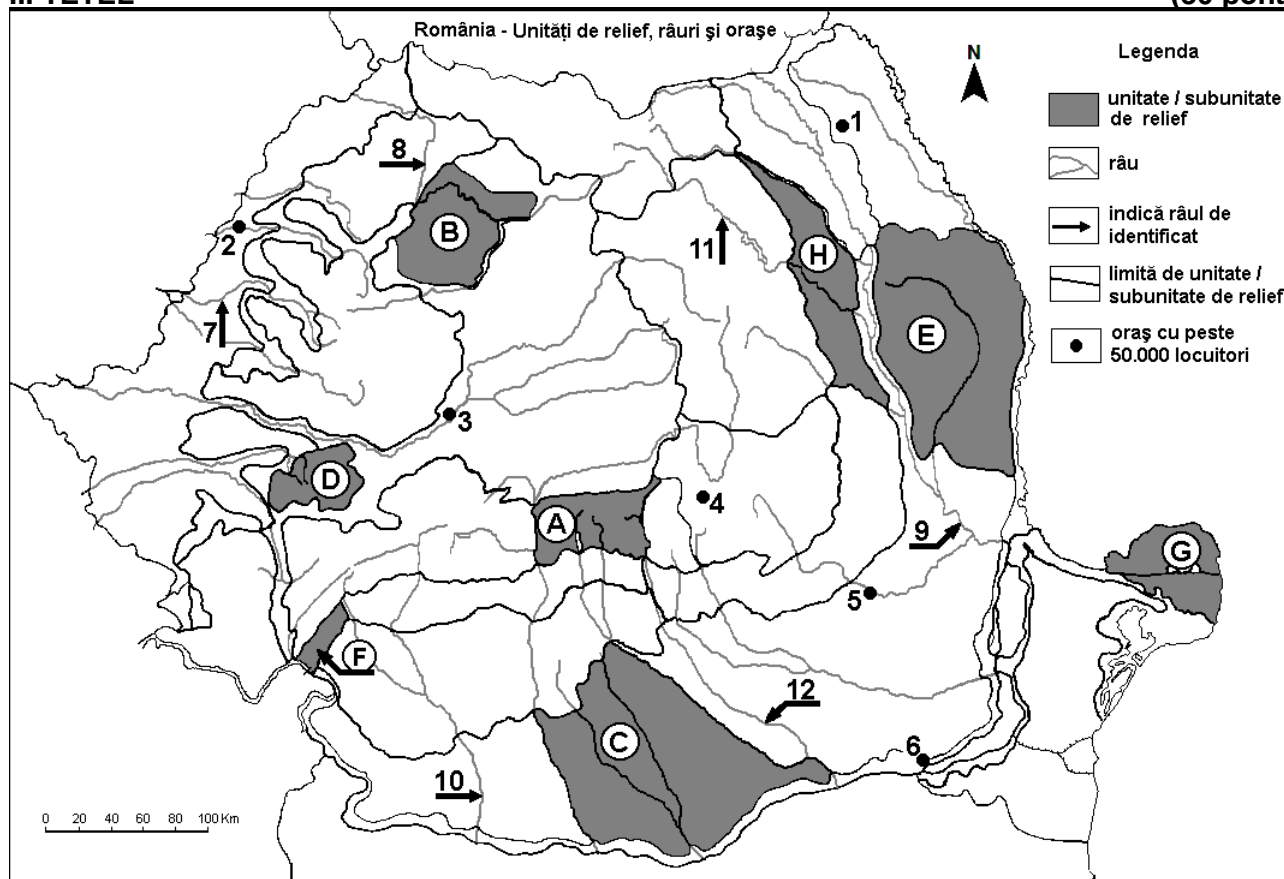
E. A térképen D betűvel jelölt országra vonatkozóan, nevezetek meg:

1. két domborzati egységet/tájegységet;
2. két folyót.

4 pont

II. TÉTEL

(30 pont)



A fenti térkép a II. tétel A - E pontjaira vonatkozik. A térképen a domborzati egységeket betűk, a városokat 1-től 6-ig, a folyókat 7-től 12-ig számok jelölik.

A. Nevezétek meg:

1. a térképen 5-ös számmal jelölt várost;
2. a térképen 10-es számmal jelölt folyót.

4 pont

B. Írjátok a vizsgalapra az alábbi mondatokat kiegészítő helyes válaszokat:

1. A térképen 8-as számmal jelölt folyó neve ...

2. A térképen 1-es számmal jelölt város neve ...

3. A térképen F betűvel jelölt domborzati egységben érezhető éghajlati hatás ...

6 pont

C. Írjátok a vizsgalapra az alábbi kijelentésekre vonatkozó helyes válasz betűjelét:

1. A Beszterce (Bistrița) folyót a térképen a következő szám jelöli:

a. 7

b. 9

c. 11

d. 12

2 pont

2. A térképen 6-os számmal jelölt város neve::

a. Alexandria

b. Călărași

c. Giurgiu

d. Slobozia

2 pont

3. A 12-es számmal jelölt folyó áthalad a következő városon:

a. Bukarest (București)

b. Pitești

c. Ploiești

d. Târgoviște

2 pont

4. A Moldvai-Szubkárpatokat (Subcarpații Moldovei) a térképen a következő betű jelöli:

a. E

b. F

c. G

d. H

2 pont

5. A térképen 2-es számmal jelölt városon áthalad az alábbi folyó:

a. Bega

b. Fehér-Körös (Crișul Alb)

c. Fekete-Körös (Crișul Negru)

d. Sebes-Körös (Crișul Repede)

2 pont

D. Írjatok három különbséget a térképen A és E betűkkel jelölt tájegységek **domborzata** között:

1. **Megjegyzés:** A különbségek a **domborzat** következő jellemzőire vonatkozhatnak: kialakulási mód, közzetani kategóriák/típusok, amelyeken a domborzat kialakult, tengerszint feletti magasságok, tagoltság, domborzati emeletek, domborzati típusok, a vonulatok és a fontosabb völgyek iránya, más domborzati jellemzők.

2. **Megjegyzés:** A teljes pontszám csak abban az esetben adható meg, ha a különbségeket összehasonlításként és nem külön-külön írtátok le.

3. **Megjegyzés:** Nem szükséges a domborzati egységek megnevezése, a feladat megoldásában hivatkozhattok a domborzati egységet jelölő betűkre.

6 pont

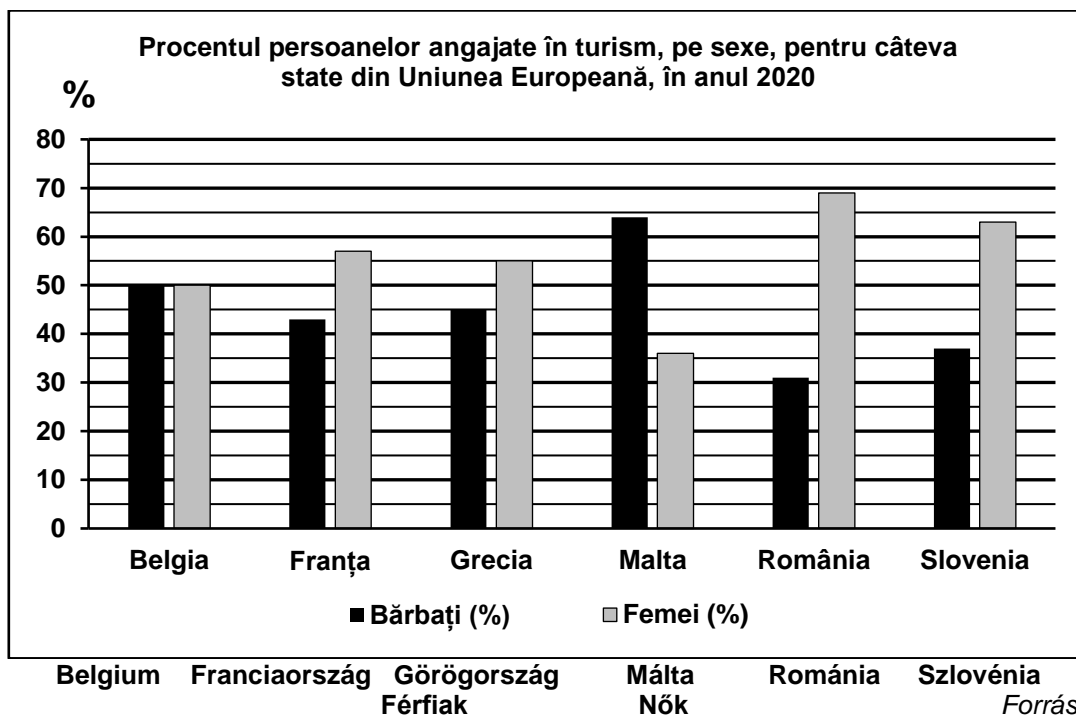
E. Mutassatok be két természeti feltételt, mely kedvező a gabonatermesztés számára a C betűvel jelölt tájegységben.

4 pont

III. TÉTEL

(30 pont)

Az alábbi grafikon a III. Tétel A-B pontjaira vonatkozik, és a turizmusban alkalmazott személyek nem szerinti eloszlását mutatja az Európai Unió egyes országaiban, 2020-ban.



A. Írjátok le:

1. Annak az országnak a nevét, ahol a legmagasabb a turizmusban alkalmazott férfiak aránya, és ennek az értékét;

2. Annak az országnak a nevét, ahol egyenlő a turizmusban alkalmazott férfiak és nők aránya, valamint ennek az értékét. **4 pont**

B. 1. Számítsátok ki, mekkora a turizmusban alkalmazott nők és férfiak aránya közti különbség Görögországban.

2. Számítsátok ki, mekkora a különbség Romániában illetve Szlovéniában a turizmusban alkalmazott nők aránya között.

3. Számítsátok ki, mekkora a különbség a Franciaországban illetve Romániában a turizmusban alkalmazott férfiak aránya között.

6 pont

C. Nevezzétek meg **Németország**:

1. két szomszédos országát, melyek az Európai Unió tagállamai;

2. három domborzati egységét/tájegységét;

3. két folyóját;

4. három városát.

10 pont

D. Az alábbi táblázat az élveszületettek számát mutatja néhány európai városban 2015-ben és 2020-ban.

	Barcelona	Budapest	Hamburg	Lyon	Plovdiv
2015	33.809	16.086	19.768	19.679	3.631
2020	28.353	14.623	20.431	17.846	3.205

Forrás: Eurostat

1. Adjátok meg annak a városnak a nevét, ahol az élveszületettek száma pozitív fejlődést mutatott az adott időszakban.

2. Számítsátok ki, mennyivel csökkent az élveszületettek száma az adott időszakban a bulgáriai városban.

3. Számítsátok ki, mennyivel csökkent az élveszületettek száma az adott időszakban a spanyolországi városban.

6 pont

E. Adjátok meg az Európai Unió négy alapító országának a nevét.

4 pont